

Geografía
Nivel superior y nivel medio
Prueba 2 – Cuadernillo de consulta


Miércoles 18 de noviembre de 2015 (mañana)

Instrucciones para los alumnos

- No abra este cuadernillo de consulta hasta que se lo autoricen.
- Utilice el cuadernillo para las preguntas apropiadas de la prueba 2.

Opción B — Océanos y sus franjas costeras

4. La fotografía muestra parte de una costa en avance.



[Fuente: © Organización del Bachillerato Internacional 2016]

Opción C — Ambientes extremos

5. Las dos fotografías muestran el glaciar Qori Kallis, parte de la capa glaciar Quelccaya, en Perú. La fotografía A se tomó en el verano de 1978; la fotografía B, en el verano de 2002.

Fotografía A (1978)



Fotografía B (2002)



[Fuente: Lonnie G. Thompson, Byrd Polar Research Center, the Ohio State University]

6. La fotografía se tomó en el paralelo 68° Norte.

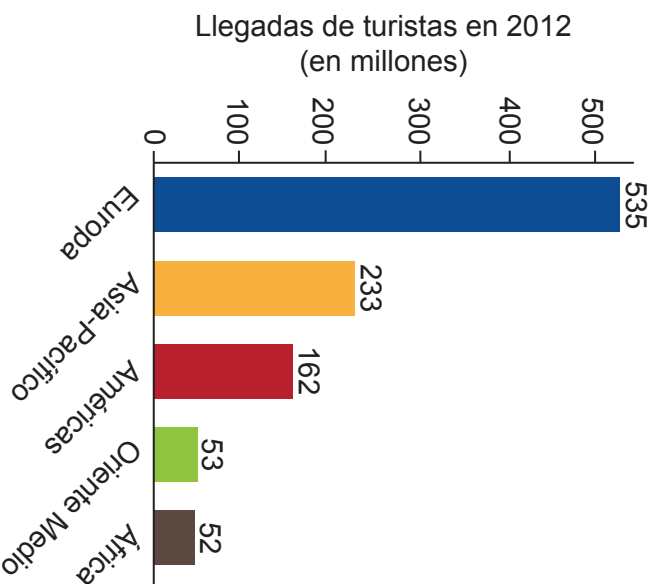


[Fuente: Utilizado con autorización de los fotógrafos]

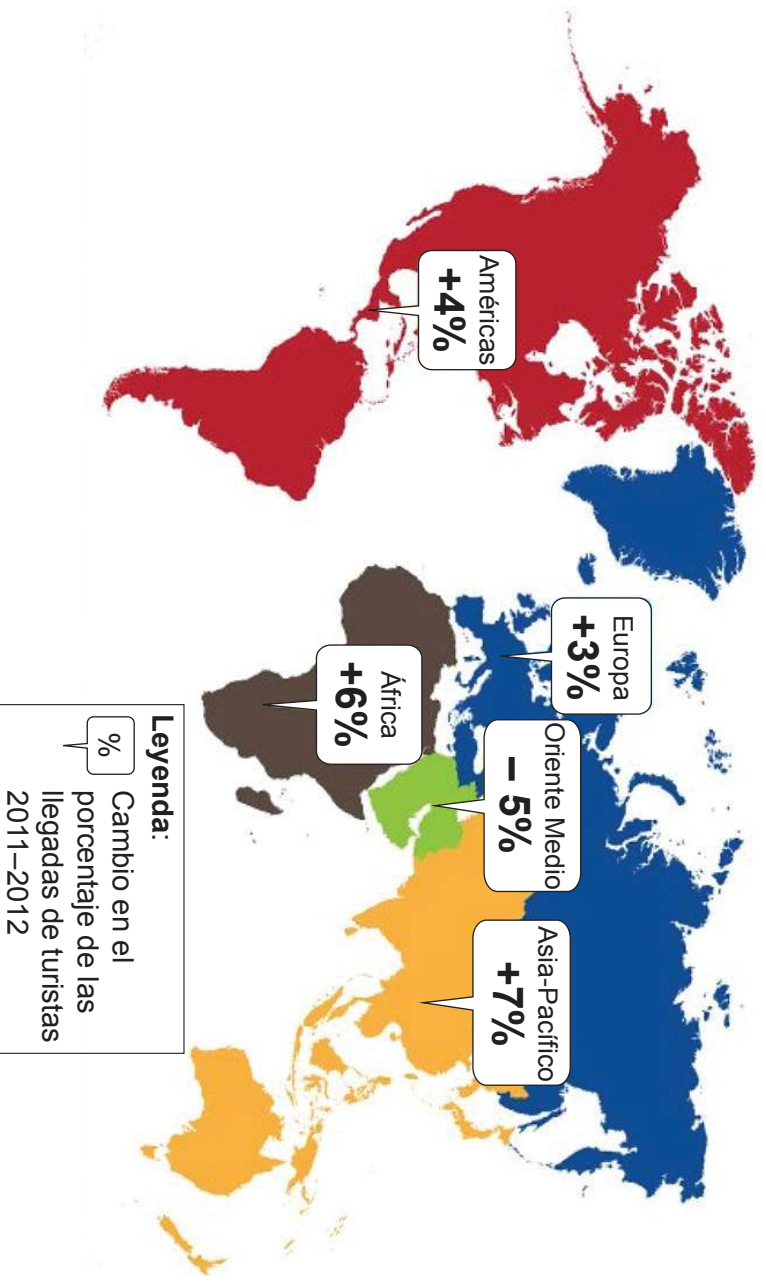
Opción E — Ocio, deporte y turismo

10. El gráfico y el mapa muestran información sobre las llegadas de turistas internacionales en 2012.

Llegadas de turistas internacionales, 2012



Cambio en el porcentaje de las llegadas de turistas internacionales, 2011–2012



[Fuente: Organización Mundial del Turismo (2015), International tourist arrivals up 4% in the first four months of 2015, publicado el 9 de julio de 2015, UNWTO, Madrid (en línea): www.unwto.org, consultado el 13 de enero de 2016. Organización Mundial del Turismo (2015), International Tourism 2014, Infografía publicada el 9 de julio de 2015, UNWTO, Madrid (en línea): http://dxiq4w60xqpw.cloudfront.net/sites/all/files/pdf/unwto_int_tourism_ita_itr_en_july_2015.pdf, consultado el 13 de enero de 2016.]

Véase al dorso

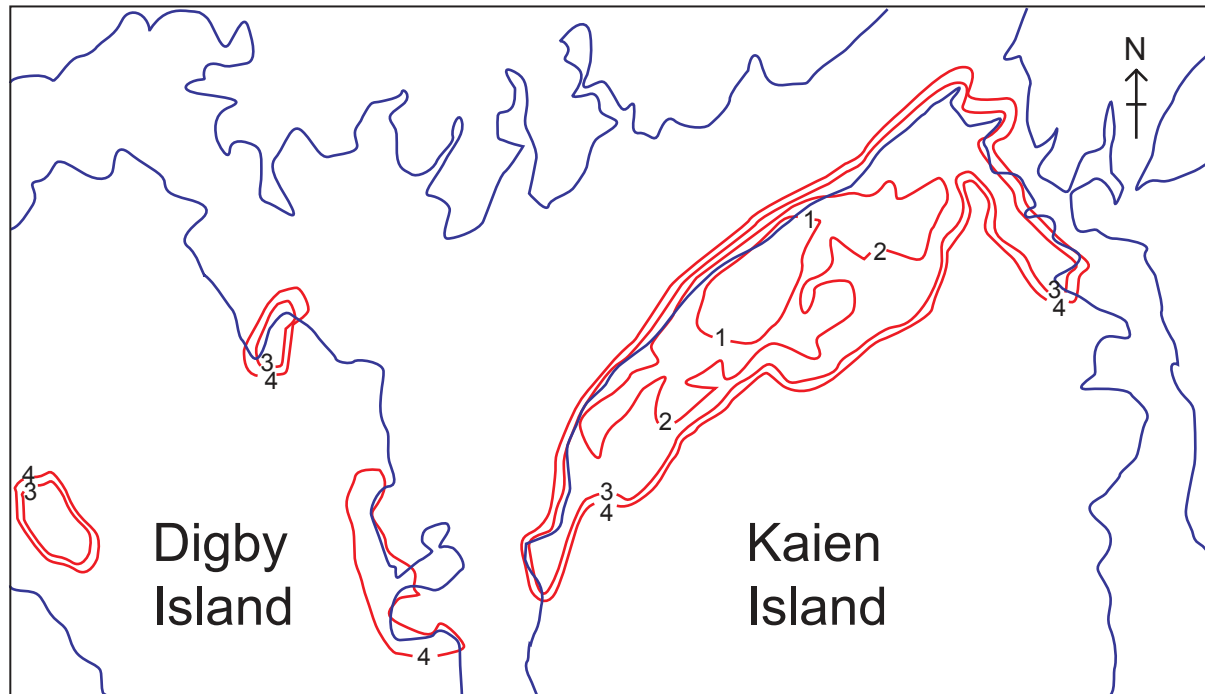
Opción B — Océanos y sus franjas costeras

3. Haga referencia **sólo** al **Mapa B** de la página 7 y a su leyenda, en esta página a la derecha (**No haga referencia al Mapa A**). La prueba de examen contiene la información relativa a este recurso.

Opción F — La geografía de la alimentación y la salud

12. Haga referencia al **Mapa A** en esta página, al **Mapa B** de la página 7 y a su leyenda, en esta página a la derecha. La prueba de examen contiene la información relativa a estos recursos.

Mapa A

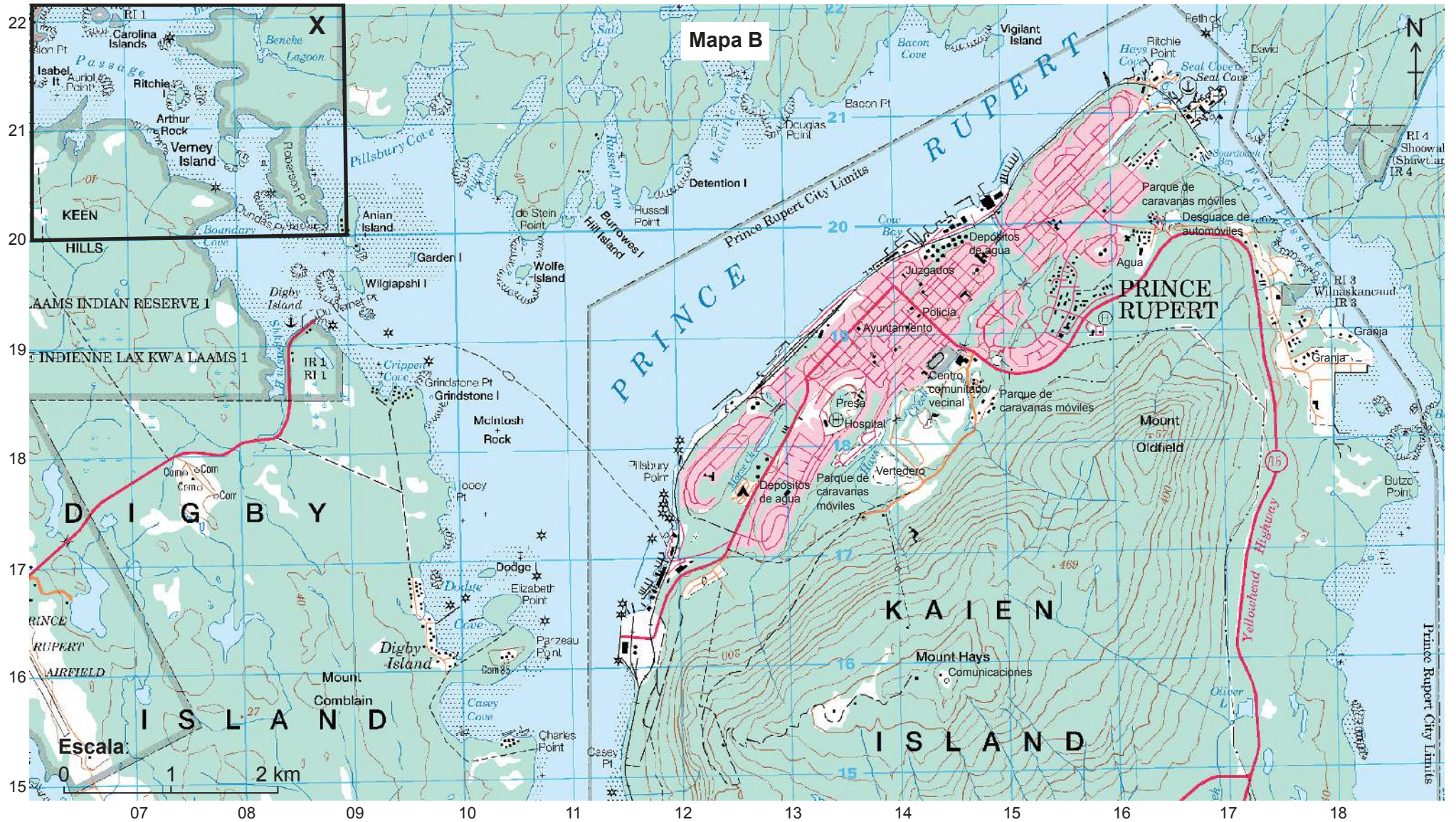


Escala: 0 1 2 km

[Fuente: © Organización del Bachillerato Internacional 2016]

Leyenda (del Mapa B):

	Carretera de doble calzada, superficie asfaltada
	Carretera, superficie asfaltada, más de dos carriles, número de autopista
	Carretera, superficie asfaltada, dos carriles
	Carretera, firme suelto o estabilizado, toda la temporada, dos carriles o más
	Carretera, firme suelto o estabilizado, toda la temporada, menos de dos carriles
	Pista para vehículos o carretera de invierno; entrada
	Camino, línea de corte o ruta de porteo; porteo
	Zona urbanizada; calle; parque o campo para deportes
	Ferrocarril, vía única, vía múltiple, apartadero; estación
	Puente; pasarela; túnel
	Desmante; terraplén, carretera elevada
	Base de hidroaviones; helipuerto; luz de navegación
	Edificio(s)
	Iglesia; lugar de culto no cristiano; santuario
	Colegio; ascensor; estación de bomberos
	Cementerio; sitio histórico o punto de interés; invernadero
	Campo de golf; zona de ski; mina
	Instalación petrolífera o de gas natural; instalación eléctrica
	Frontera estatal con hito topográfico
	Frontera, novena categoría
	Represa: pequeña, grande; carretera auxiliar
	Curso de agua o línea de costa: permanente, intermitente
	Rápidos; cataratas (con altura en negro)
	Lago o estanque; cenagal, lago o estanque intermitente
	Llanura de marea o banco de arena
	Rocas en agua o isla pequeña
	Saliente rocoso; arrecife de roca
	Marisma; pantano
	Curvas de nivel: índice, intermedias, aproximadas
	Acantilado o escarpe
	Arena; esker; pingo
	Glaciar: casquete de hielo; campo de nieve
	Área boscosa; huerto; viñedo, plantación de lúpulo



[Fuente: <http://geogratis.gc.ca/>]